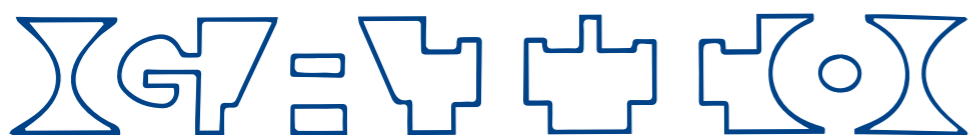


E ora chi paga?

Leonardo, Francesco e Silvia vanno a mangiare al ristorante e spendono in tutto 55 franchi. Ognuno di loro dà una banconota da 20 franchi, per un totale di 60 franchi. Come resto ricevono 5 monete da 1 franco. Decidono di tenersi 1 franco a testa e di lasciare 2 franchi di mancia al cameriere; in questo modo hanno speso 19 franchi a testa, quindi 57 franchi in totale, che sommati ai 2 franchi di mancia fanno 59 franchi. Dove è finito il sessantesimo franco?

Il più buffo dei codici segreti

Nella figura sotto è indicato in codice il nome di un animale. Qual è?



Trova il risultato

$$\text{cone} + \text{cone} + \text{cone} = 120$$

$$\text{cubo} + \text{cubo} + \text{cone} = 90$$

$$\text{cilindro} + \text{cubo} + \text{cilindro} = 125$$

$$\text{cilindro} + \text{cubo} + \text{cone} = ?$$


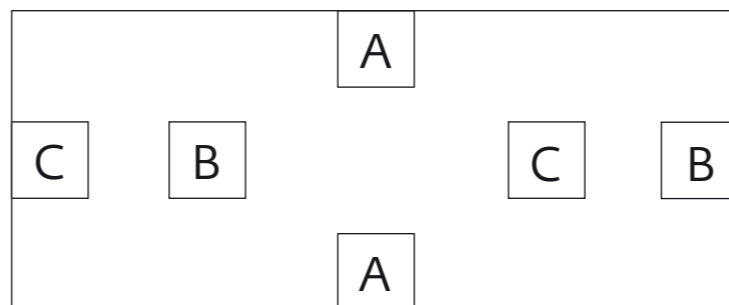
Il quadrato magico

Risolvi il quadrato magico inserendo un numero da 1 a 9 in ogni casella. I numeri non possono essere ripetuti. Sommando i numeri di ogni riga, di ogni colonna e di ogni diagonale, si deve ottenere sempre lo stesso risultato, 15, chiamato *costante*.

	5	

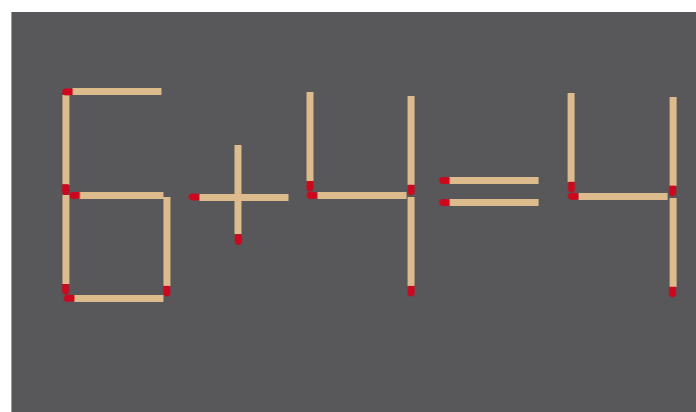
Intrecci vietati

Collega A con A, B con B e C con C utilizzando linee che non si intreccino e che non passino all'esterno del rettangolo.



Il fiammifero giusto

Spostando un fiammifero, rendi corretto il calcolo!



Un lavoro di logica

Seguendo la logica delle prime operazioni, trova l'ultimo risultato.

7	(+)	4	=	311
8	(+)	6	=	214
9	(+)	6	=	315
12	(+)	4	=	816
8	(+)	7	=	?

Coniglio origami

